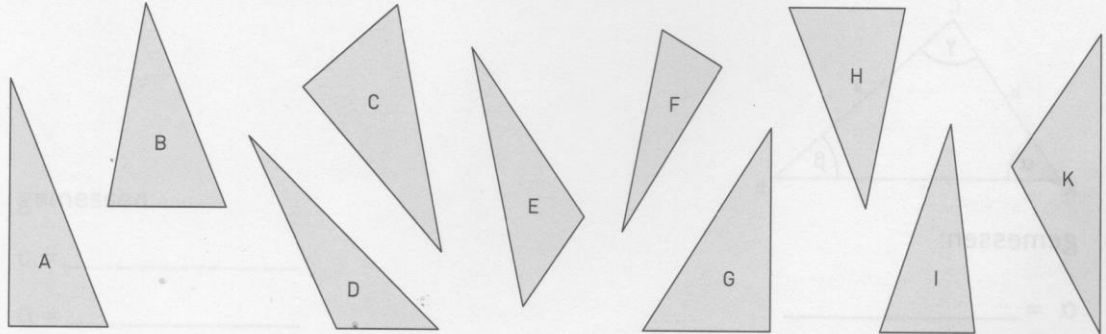


Fülle das Arbeitsblatt aus!

Dreiecksarten

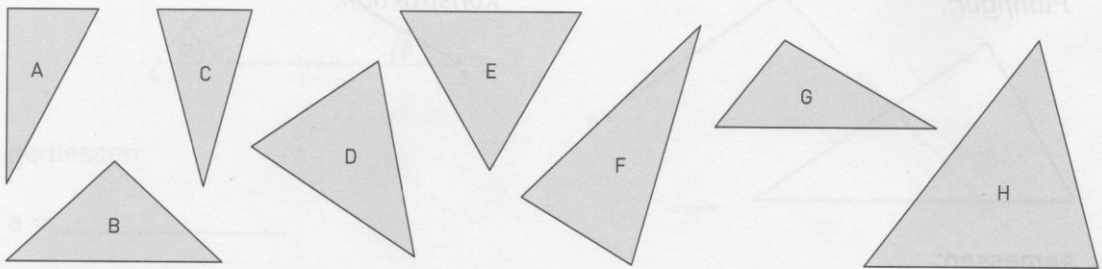
1. Unterscheide die Dreiecke nach der Größe ihrer Seiten und Winkel.

a)



Spitzwinklige Dreiecke sind _____, rechtwinklige sind _____ und stumpfwinklige sind _____.

b)



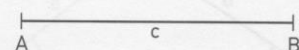
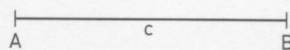

Gleichseitige Dreiecke sind _____, gleichschenklige sind _____ und unregelmäßige sind _____.

2. Zeichne ein Dreieck ABC. Beachte die Dreiecksart.

a) (1) rechtwinklig

(2) spitzwinklig

(3) stumpfwinklig



b) (1) gleichseitig

(2) gleichschenklig

(3) unregelmäßig

